

姓名
班级
学校

黄冈小复习

小学数学 一年级下

第一单元达标测试卷

北师大版

时间：60分钟

测试内容：加与减(一)

满分：100分+

题号	一	二	三	四	五	六	七	八	附加题	总分
得分										

rènzhēntiánkòng
一、认真填空。(每空1分,共26分)

- ☆☆☆☆☆☆
□比☆多()个,☆比□少()个。
 - 15比8多();5比12少()。
 - 比17少9的数是();比7多8的数是()。
 - 小兰要做15道口算题,已经做了9道,她还剩()道没做。
 - 河里有12只鸭子,13只鹅,若把8只鸭子赶到岸上,则河里还有()只鸭子。
 - 在○里填上“>”“<”或“=”。
- | | | |
|--------------|--------------|----------------|
| $8+6$ ○ 12 | $15-9$ ○ 5 | $7+9$ ○ $10+3$ |
| $11-2$ ○ 8 | $17-8$ ○ 9 | $8+2$ ○ $15-5$ |
- 在○里填上“+”或“-”。
- | | | |
|--------------|--------------|--------------|
| 8 ○ $4=12$ | 9 ○ $4=13$ | 15 ○ $6=9$ |
| 15 ○ $9=6$ | 13 ○ $7=6$ | 15 ○ $7=8$ |
- 在()里填上合适的数。
- | | | |
|------------|-----------|------------|
| $8+()=16$ | $8=()-6$ | $9+()=13$ |
|------------|-----------|------------|

()+5=11 ()-5=6 11-()=8

zǐ xǐ pànduàn duì de zài zuǒ huà li xiě huà cuò de huà bǐng gǎi zhèng

二、仔细判断。(对的在括号里画“√”,错的画“×”并改正)(每小题1分,共4分)

- | | |
|------------------------------|------------------------------|
| 1. $9+4=14$ ()
改正: _____ | 2. $16-8=9$ ()
改正: _____ |
| 3. $13-7=6$ ()
改正: _____ | 4. $11-4=5$ ()
改正: _____ |

lián yì lián
三、连一连。(14分)

1	5	6	2	7	3	8	4	9

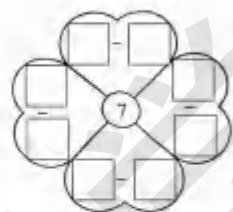
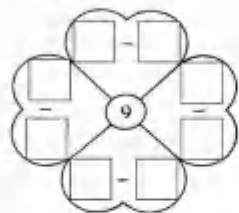
xì xīn jì suàn
四、细心计算。(19分)

- 看谁算得又对又快。(10分)
- | | | | |
|---------|---------|---------|---------|
| $15-6=$ | $14-5=$ | $11-5=$ | $14-6=$ |
| $12-3=$ | $11-2=$ | $11-6=$ | $5+7=$ |
| $14-8=$ | $12-6=$ | | |

2. 找规律,填一填。(9分)

$\begin{array}{ c } \hline 11 \\ \hline 12 \\ \hline 13 \\ \hline \end{array}$	$-8=$	$\begin{array}{ c } \hline \\ \hline \\ \hline \\ \hline \end{array}$	$16-$	$\begin{array}{ c } \hline 7 \\ \hline 8 \\ \hline 9 \\ \hline \end{array}$	$=$	$\begin{array}{ c } \hline \\ \hline \\ \hline \\ \hline \end{array}$	$\begin{array}{ c } \hline 14 \\ \hline 15 \\ \hline 16 \\ \hline \end{array}$	$-$	$\begin{array}{ c } \hline 5 \\ \hline 6 \\ \hline 7 \\ \hline \end{array}$	$=$	$\begin{array}{ c } \hline \\ \hline \\ \hline \\ \hline \end{array}$
--	-------	---	-------	---	-----	---	--	-----	---	-----	---

kàn dé shù xiě suàn shì
五、看得数，写算式。(8分)



huà yì huà
六、画一画。(每小题2分，共4分)

1. □□□□□□□□□□□□□□

画○，比□少5个。

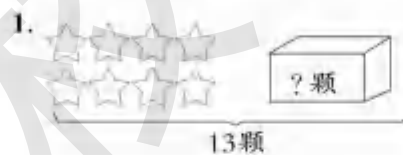
□○□=□

2. △△△△△△△△△△


画☆，比△多5个。

□○□=□

kàn tú liè shì jì suàn
七、看图列式计算。(每小题2分，共8分)



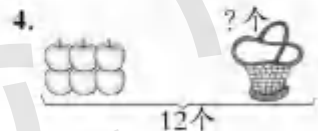
□○□=□(颗)



□○□=□(只)



□○□=□(个)



□○□=□(个)

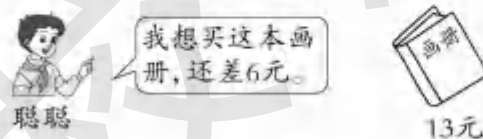
jiě jué wèn tí
八、解决问题。(17分)

1. 2020年新冠肺炎疫情期间，小明买了18个口罩，小红买了9个口罩，小明比小红多买多少个口罩？(3分)

□○□=□(个)

答：小明比小红多买_____个口罩。

2. 聪聪带了多少元钱？(3分)



□○□=□()

答：聪聪带了_____元钱。

3. 水果超市。(11分)

(1)买的苹果比火龙果多几个？(3分)

□○□=□()

答：买的苹果比火龙果多_____个。

(2)买的桃比苹果少几个？(3分)

□○□=□()

答：买的桃比苹果少_____个。

(3)请你再提出一个问题并解答。(5分)

□○□=□() 答：_____。

我买了14个苹果，7个火龙果和5个桃。



jiā tiān tí
附加题。(10分)

用6、7、8、15中的三个数写两道加法算式和两道减法算式。

□○□=□ □○□=□

□○□=□ □○□=□

学号
姓名
班级
学校

黄冈小复习

第二单元达标测试卷

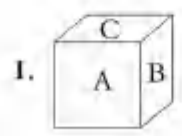
小学数学 一年级下 北师大版

时间：60分钟 测试内容：观察物体

满分：100分+

题号	一	二	三	四	五	六	附加题	总分
得分								

认真填空。(每空2分,共20分)




1.

从前面看到的是字母()。
 从上面看到的是字母()。
 从右面看到的是字母()。



2.

()能看到
 ()能看到



3.

小猫能看到()个正方形。
 小狗能看到()个正方形。

4. 它们分别看到的是数字几? 填一填。



... (5) ...

仔细判断。(对的在□里画“√”错的在□里画“×”)(9分)



精心选择。(把正确答案的序号填在括号里)(每小题3分,共12分)

1. 从上面看左图,看到的是()。

- A. B. C.

2. 从右面看电视机,看到的是()。

- A. B. C.

3. 小女孩看到的是()。

- 明明 A. B. C.

4. 有一头小猪,小明站在它的前面,则小明看到的是()。

- A. B. C.

画一画。(20分)

1. 小丽看到的是哪幅图? 在下面画“○”。(4分)



... (6) ...

2. 谁看不到大熊猫？在下面画“√”。(4分)



3. 小刚看到的是哪幅图？在下面画“△”。(4分)



4. 小慧看到的是哪幅图？在下面画“√”。(4分)




5. 小朋友看到的是哪幅图？在下面画“○”。(4分)

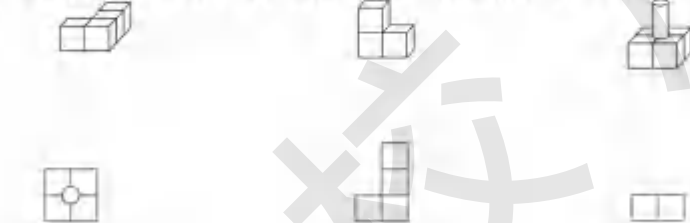


五、连一连。(27分)

1. 右面的图分别是谁看到的？连一连。(6分)



2. 下面各立体图形，从上面看各是什么图形？连一连。(6分)



3. 小动物们分别看到的是哪幅图？连一连。(6分)



4. 请把小动物们的名字和它们看到的算式结果连起来。(9分)



六、根据他们的描述，在相应的位置写出他们的名字。(12分)



小亮：“我看到猴子的一只耳朵、一条腿和它的尾巴，我还看到它头上戴着一朵花。”
 小兰：“我看到猴子的脑袋、背部和它的尾巴。”
 小丁：“我能看到猴子的眼睛、嘴巴和它的腿，头上戴着一朵花。”
 小华：“我也看到猴子的一只耳朵、一条腿和它的尾巴。”

附加题。(10分)

数一数，下列图形是由多少个小正方体搭成的。



密
封
线

学 号
姓 名
班 级
学 校

黄冈小复习

第一次月考达标测试卷

小学数学 一年级下 北师大版

时间：60分钟 测试内容：第一、二单元 满分：100分+

题号	一	二	三	四	五	六	选做题	总分
得分								

认真填空。(26分)

1. (6分)

$11 - 7 = \square$

 先算 $\square - \square = \square$
 再算 $\square + \square = \square$

$15 - 6 = \square$

 先算 $\square - \square = \square$
 再算 $\square + \square = \square$

2. 看图填空或列式计算。(4分)

$8 + 4 = \square$ (只)
 $12 - 8 = \square$ (只)

$\square + \square = \square$ (个)
 $\square - \square = \square$ (个)

3. 它们的学号各是多少？填在圆圈里。(4分)

$+8=16$ ○

$+6=11$ ○

$-6=8$ ○

$-7=8$ ○

4. 找规律，填一填。(8分)

3	5	7			
20	18		14		

5. 填一填，算一算。(4分)

☆☆☆☆☆☆☆☆☆☆ ☆比△____, △比☆____。
 (填“多”或“少”几个)

△△△△△△ $\square - \square = \square$ (个)

二、精心选择。(把正确答案的序号填在括号里)(每小题2分,共8分)

1. 下面图()是小女孩看到的。

A

B

C

2. 小鸭子看到的是()。

A

B

C

3. 小鸟看到的是()。

A

B

C

4. 小奇看到的是()。

A

B

C

三、细心计算。(28分)

1. 看谁算得又对又快。(10分)

$7+9=$	$12-5=$	$13-6=$	$18-9=$	$14-7=$
$11-8=$	$6+5=$	$9+7=$	$15-7=$	$12-6=$

2. 在○里填上“>”“<”或“=”。(6分)

$15-8 \bigcirc 5$	$17-8 \bigcirc 9$	$7+4 \bigcirc 12-2$
$13-6 \bigcirc 8$	$12-5 \bigcirc 7$	$12-7 \bigcirc 15-6$

3. 在括号里填上合适的数。(6分)

() - 10 = 6 12 - () = 9 () + 6 = 12
 16 - () = 9 () + 7 = 15 15 - () = 6

4. 在○里填上“+”或“-”。(6分)

19 ○ 7 ○ 2 = 10 16 ○ 9 = 14 ○ 7 6 ○ 6 = 18 ○ 6
 20 ○ 5 ○ 5 = 10 15 ○ 6 = 4 ○ 5 20 ○ 10 = 5 ○ 5

guānchá wù tǐ

四、观察物体。(12分)

1. 右面的三张照片分别是茶叶盒的哪个面拍到的?(6分)



() () ()

2. 右面的图形分别是从小正方体的哪个面看到的?(6分)



() () ()

kàn tú liè shì jì suàn

五、看图列式计算。(每小题3分,共6分)



□ ○ □ = □



□ ○ □ = □

jiě jué wèn tí

六、解决问题。(20分)

1. (6分)



明明看到的算式是()。

计算: □ ○ □ = □

玲玲看到的算式是()。

计算: □ ○ □ = □

2. 还要做几顶帽子才能和围巾配套?(4分)



我做了6顶帽子。



我做了13条围巾。

□ ○ □ = □ (顶)

答:还要做 _____ 顶帽子才能和围巾配套。

3. 根据下图提出问题并解答。(10分)



我有9张
画片。

我有12张画片。

小红

我有6张
画片。

小明

(1) 提出一个加法问题,并解答。(5分)

(2) 提出一个减法问题,并解答。(5分)

xuǎnzòu tí

选做题。(10分)

一本《童话故事》一共有16页,小月前天看了4页,昨天看了3页,今天要看多少页才能看完?

□ ○ □ = □ (页)

□ ○ □ = □ (页)

答:今天要看 _____ 页才能看完。

黄冈小复习

第三单元达标测试卷

北师大版

时间：60分钟

测试内容：生活中的数

满分：100分

题号	一	二	三	四	五	六	七	附加题	总分
得分									

认真填空。(每空1分,共41分)

1. 看图填数。



()



()



()

2. 3个十和5个一是(),45由()个十和()个一组成。
3. 一个数从右边起,第一位是9,第二位是3,这个数是()。
4. 在36后面,38前面的数是();56的个位上是(),十位上是()。
5. 43后面第三个数是();71前面第5个数是()。
6. 一个一个地数,55在()和()的中间。
7. 比81小而比78大的是()和()。
8. 一个两位数,十位上的数字是4,比个位上的数字小2,这个两位数读作()。
9. 87 65 100 78 97

- (1)上面的数中,最大的是(),最小的是()。
- (2)上面的数中,比85小得多的数是(),最接近90的数是()。

10. 在○里填上“>”“<”或“=”。

- 78 ○ 76 86 ○ 96 95 ○ 95 74 ○ 75
- 91 ○ 39 100 ○ 99 48 ○ 84 67 ○ 66

11. 找规律填数。

- (1) 22, 24, 26, 28, (), (), ()。
- (2) 90, 85, 80, 75, (), (), ()。
- (3) 79, 81, (), 85, (), ()。
- (4) 11, 22, 33, (), (), ()。

二、仔细判断。(对的在括号里画“√”,错的画“×”)(每小题1分,共5分)

1. 个位上是7,十位上是9,这个数是79。 ()
2. 六十一写作601。 ()
3. 和69相邻的两个数是68和70。 ()
4. 55中的两个“5”的意思相同,都表示5个一。 ()
5. 最小的两位数是11,最大的两位数是99。 ()

三、精心选择。(把正确答案的序号填在括号里)(每小题1分,共5分)

1. 6个十和5个一组成的数是()。
A. 65 B. 56 C. 60
2. 45里面有()。
A. 5个十和4个一 B. 4个十和5个一 C. 45个十
3. 55后面的第4个数是()。
A. 56 B. 58 C. 59
4. 一个两位数,十位上的数字是4,十位上的数字比个位上的数字大3,这个两位数是()。
A. 43 B. 41 C. 14
5. 86比80()。
A. 多一些 B. 少一些 C. 多得多

四、把下面的数填入相应的圈里。(10分)

大于60的数

小于60的数

个位上是7的数



十位上是4的数



个位上是4的数



pái yì pái

五、排一排。(14分)



() > () > () > () > () > () > ()



() < () < () < () < () < () < ()

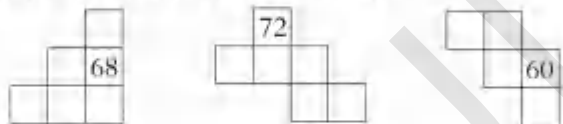
xià miàn shì bǎi shù biǎo de yì bù fēn

六、下面是百数表的一部分。(11分)

41		44	45	46	47		
	52	53		☆			60
61		64	65			68	□
71	72	73					
				○			90
			95	96	97		△

1. ☆代表(), □代表(), ○代表(), △代表()。(4分)


2. 根据上表,把下图中所缺的数填上。(7分)



jié jué wèn tí

七、解决问题。(14分)

1. 猜一猜,语文书可能有多少本?(2分)




8本	22本	47本	40本

...15...

2.



小松



小林

小林可能有多少本书?画“△”。(2分)

13本	26本	50本

3. 李阿姨抢了多少元微信红包?画“√”。陈叔叔抢了多少元微信红包?画“△”。(6分)

我比张伯伯抢的多得多。



李阿姨



张伯伯

我昨天抢了20元微信红包。

我比张伯伯抢的少一些。



陈叔叔

5元	17元	21元	50元

4. 一个两位数,它的个位上和十位上的数字之和是10,且十位上的数字比个位上的数字大,这个数可能是多少?写一写。(4分)

fù jiā tí

附加题。(10分)

有一篮草莓,4个4个地拿,最后还剩1个。这篮草莓的个数是

()。(填“双数”或“单数”)

...16...

学号
姓名
班级
学校

黄冈小复习

第四单元达标测试卷

小学数学 一年级下 北师大版

时间：60分钟 测试内容：有趣的图形 满分：100分+

题号	一	二	三	四	五	六	七	附加题	总分
得分									

一、认真填空。 (每空1分,共20分)

- 书的封面是()形, 正方体的每个面都是()形, 圆锥的每个面都是()形, 圆柱的上面是()形。
- 至少用()根一样的小棒能拼成一个正方形, 至少用()根一样的小棒能拼成一个三角形。
- 把一张正方形纸对折两次后, 沿折痕剪开, 剪成的图形可能是()、()或()。
- 两个完全一样的正方形, 可以拼成一个()形。
-

- 从左往右数, 第()个是正方形, 第()个是圆, 第()个是平行四边形。
- 一共有()个三角形, 一共有()个长方形。

6. 找规律接着画。
- (1) _____

- (2) _____
- (3) _____

二、精心选择。 (把正确答案的序号填在括号里)(每小题2分,共12分)

- 课桌的表面一般是()。
 - A. 长方形
 - B. 圆
 - C. 三角形
- 搭2个独立的长方形至少要用()根相同的小棒。
 - A. 11
 - B. 12
 - C. 13
- 左图中有()个三角形。
 - A. 2
 - B. 3
 - C. 4
- 七巧板里有()种不同的图形。
 - A. 2
 - B. 3
 - C. 4
- 用七巧板里的两个相同的三角形不能拼成一个()。
 - A. 三角形
 - B. 正方形
 - C. 圆
- 下面()中的图不是用七巧板拼成的。
 - A.
 - B.
 - C.

三、数一数。 (14分)

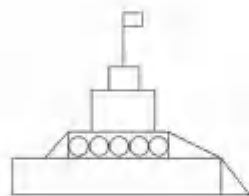
1. (8分)
- 有()个正方形

 有()个圆

 有()个三角形

 有()个长方形

2. (6分)



有()个□
有()个△
有()个○


lián yì lián

四、连一连。(16分)

1. 把物品与它的形状连起来。(4分)



2. 下面的图案分别是由什么图形组成的? 用线连一连。(4分)



正方形

长方形

三角形

圆

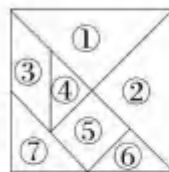
3. 找特征, 连一连。(8分)

有两个圆形 有两个三角形 每个面都是正方形 有四个长方形



kàn tú tián yì tián

五、看图填一填。(20分)



这是一套七巧板。



- 图⑤是()形, 图()是三角形, 图()是平行四边形。
- 七巧板是由()种图形组成, 其中有()个正方形, 有()个三角形, ()个平行四边形。
- 在这套七巧板中, 最大的是②号和()号, 最小的是④号和()号, 用()块④号可以拼成一块①号。

huà yì huà

六、画一画。(6分)

在下面点子图中画一个长方形、一个正方形、一个三角形。



fēn yì fēn

七、分一分。(12分)



分成两个三角形 分成两个正方形 分成两个长方形 分成两个三角形

fù jiā tí

附加题。(10分)

一个正方形有4个角, 剪去1个角, 最多有()个角, 最少有()个角。

黄冈小复习

期中综合达标测试卷

北师大版

小学数学 一年级下

测试内容：第一~四单元

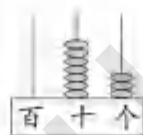
时间：60分钟

满分：100分

题号	一	二	三	四	五	六	七	选做题	总分
得分									

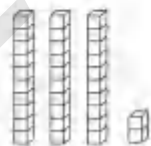
认真填空。(每空1分,共39分)

1. 看图填空。



()个十和()个一

写作:() 读作:()



()个十和()个一

写作:() 读作:()

2. 3个十和5个一合起来是(), 10个十是()。

3. 一个三位数,从右边起,第()位是个位,第()位是十位,第()位是百位。

4. 比49大,且比52小的数是()和()。

5. 小飞有12个苹果,爸爸有5个苹果,小飞比爸爸多()个苹果。

6. 长方形有()条边,对边()。正方形有()条边,四边()。三角形有()条边。

7. 把下面的数填在合适的圈里。

48 76 45 64 49 63

十位上是4的数

比60大的数

比50小的数



8. 用3、4、9三张卡片中的两张组成两位数,最大的数是(),最小的数是()。

9. 在97后面的三个数是()、()、()。

10. 找规律,填一填。

(1) 90, (), (), 75, 70, (), 60.

(2) (), (), 33, 43, (), (), 73.

(3) \triangle \square \square \triangle \square () () ()

二、仔细判断。(对的在括号里画“√”,错的画“×”)(每小题1分,共5分)

1. 最大的两位数是90。 ()

2. 28后面第三个数是31。 ()

3. 从10开始10个10个地数,数3次是30。 ()

4. 两个 可以拼成一个 。 ()

5. 因为 $0 < 9$, 所以 $100 < 99$ 。 ()

三、精心选择。(将正确答案的序号填在括号里)(每小题1分,共6分)

1. 最大的两位数与最小的三位数相差()。

A. 1 B. 2 C. 10

2. 七巧板是由()种图形组成的。

A. 4 B. 7 C. 3

3. 今年小丽8岁,小洁6岁,两年后,小丽比小洁大()岁。

A. 4 B. 6 C. 2

4. 下面第()个物体能画出 。

A. B. C.

5. 冬冬有30枚邮票,秀秀的邮票比他多一些,秀秀可能有()枚邮票。

A. 26 B. 38 C. 67

6. 两个同样的正方形可以拼成一个()。

A. 正方形 B. 长方形 C. 三角形

四、细心计算。(26分)

1. 看谁算得又快又对。(8分)

$14 - 6 =$ $18 - 9 =$ $7 + 8 =$ $16 - 8 =$
 $8 + 4 =$ $14 - 5 =$ $17 - 8 =$ $12 - 8 =$

2. 在 里填上合适的数。(6分)

$\square + 8 = 15$ $\square - 5 = 9$ $8 + \square = 12$
 $18 - \square = 9$ $\square + 9 = 15$ $\square - 7 = 10$

3. 夺红旗。(6分)

$$18 \xrightarrow{-9} \square \xrightarrow{+6} \square \xrightarrow{-7} \square \xrightarrow{+3} \square \xrightarrow{-2} \square \xrightarrow{+3} \square \rightarrow \text{旗}$$

$$8 \xrightarrow{+7} \square \xrightarrow{-9} \square \xrightarrow{+6} \square \xrightarrow{-5} \square \xrightarrow{+6} \square \xrightarrow{-5} \square \rightarrow \text{旗}$$

4. 在○里填上“>”“<”或“=”。(6分)

$12-4 \bigcirc 7 \quad 15-6 \bigcirc 9 \quad 13-7 \bigcirc 14-8$

$14+5 \bigcirc 18 \quad 16-9 \bigcirc 18 \quad 11-6 \bigcirc 13-8$

lián yì lián

五、连一连。(6分)

1. 他们分别看到的是哪个图案? 连一连。(3分)



2. 右面的图分别是谁看到的? 连一连。(3分)



shù yì shù tián yì tián

六、数一数, 填一填。(5分)



圆	正方形	长方形	三角形	平行四边形	总共
()个	()个	()个	()个	()个	()个

jiě jué wèn tí

七、解决问题。(13分)

1. 每人要做11道口算题。(6分)



我做了4道题, 还要做几道?

我还要做6道, 你猜我做了几道?



2. 晓明两天一共吃了几颗糖?(4分)



妈妈买了16颗糖, 我第一天吃了一些, 第二天又吃了一些, 现在还剩9颗糖。

3. 猴哥哥可能摘了多少个桃子? 画“√”。(3分)

我摘了24个桃子。

我摘的桃子比你的多一些。



猴弟弟



猴哥哥

20个	32个	65个
<input type="checkbox"/>	<input type="checkbox"/>	<input type="checkbox"/>

xuǎn zuò tí

选做题。(10分)

用4, 5, 6, 7组数。

1. 选两个数, 组成的最小两位数是()。

2. 十位上是6, 再任选一个, 组成最小两位数是(), 组成最大两位数是()。

密
封
线

学 科
姓 名
班 级
学 校

黄冈小复习

名校全真期中测试卷

小学数学 一年级下 北师大版





时间：60分钟 测试内容：第一~四单元

满分：100分+

题号	一	二	三	四	五	六	七	选做题	总分
得分									

一、认真填空。 (第6题2分,第8题4分,其余每空1分,共36分)

1. 写数。

			
()	()	()	()

2. (1) ()个十和()个一是48。
 (2) 69前面一个数是(),后面一个数是()。

3. 按规律填一填。

23	24		26	
90	80		50	

4. 在○里填上“>”或“<”,在□里填上合适的数。

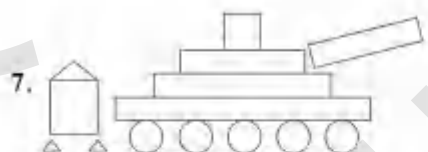
39 ○ 41	78 ○ 80	16 < □
96 ○ 69	100 ○ 99	□ < 50

5. □里填几?

□ + 9 = 11	8 + □ = 13	□ + 5 = 14
12 - 6 = □	7 + □ = 15	16 - 8 = □

6. 从电视的侧面看,会看到哪幅图?画“○”;从电视的前面看,会看到哪幅图?画“△”。

			
	()	()	()







长方形有()个,
 正方形有()个,
 三角形有()个,
 圆有()个。

8. 从4、6、9、13中选出三个数,写出两道加法算式和两道减法算式。

□ + □ = □	□ - □ = □
□ + □ = □	□ - □ = □

二、精心选择。 (将正确答案的序号填在括号里)(每小题2分,共10分)

1. 个位上的数是9的数是()。
 A. 91 B. 19 C. 90
2. 有两个面是圆的图形是()。
 A.  B.  C. 
3. 百数表中,一共有()个两位数。
 A. 89 B. 90 C. 99
4.  盒子里抽出来的图形可能是()。
 A. 圆 B. 正方形 C. 正方形或长方形
5. 一年级同学给山区小朋友捐书,一班捐了39本,二班大约捐了()本。



- A. 50 B. 82 C. 10

三、细心计算。 (16分)

1. 看谁算得又对又快。(10分)

13 - 6 =	15 - 9 =	11 - 4 =	18 - 9 =	8 + 5 =
6 + 9 =	12 - 8 =	12 - 7 =	13 - 4 =	5 + 6 =

2. 将下列算式按得数从小到大的顺序排一排。(6分)

$11-7$ $14-7$ $12-9$ $16-7$ $15-9$ $13-8$

tián yì tián

四、连一连。(10分)

1. 你能帮助小动物找到家吗? 连一连。(4分)



6个一和3个十。

6个十和2个一。

个位是1, 十位是8。

十位是7, 个位比十位少3。


2. 下面的图分别是谁看到的? 连一连。(6分)



huà yì huà

五、画一画。(4分)

用左边点子图中的两个三角形在右边图中分别拼出□和△。



kàn tú liè shì jì suàn

六、看图列式计算。(每小题3分,共6分)

1. 13 只

$\square \bigcirc \square = \square$ (只)

2. 11 支

$\square \bigcirc \square = \square$ (支)

jiě jué wèn tí

七、解决问题。(18分)

1.

18元 比 贵得多



书包的价格可能是多少元? (在正确的答案下面画“√”)(4分)

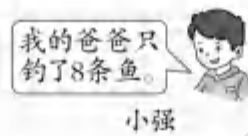

12元	60元	22元
<input type="checkbox"/>	<input type="checkbox"/>	<input type="checkbox"/>

2. 停车场原来停着13辆 ,开走了9辆,停车场还剩下多少辆



$\square \bigcirc \square = \square$ (辆) 答:停车场还剩下 \square 辆车。

3.



小强的爸爸比小丽的爸爸少钓了几条鱼?(5分)

$\square \bigcirc \square = \square$ (条)

答:小强的爸爸比小丽的爸爸少钓了 \square 条鱼。

4. 椰树上结了16个椰果。



树上还剩多少个椰果?(5分)

$\square \bigcirc \square = \square$ (个) 答:树上还剩 \square 个椰果。

xiǎn zuò tí

选做题。(10分)

$\square - \star = 6$ $\square - \bigcirc = 8$ $\star + \bigcirc = 12$
 $\square = (\quad)$ $\bigcirc = (\quad)$ $\star = (\quad)$

学号
姓名
班级
学校

黄冈小复习

第五单元达标测试卷(一) 北师大版

小学数学 一年级下 测试内容: 小兔请客, 采松果, 青蛙吃虫子

时间: 60分钟 满分: 100分

题号	一	二	三	四	五	六	七	八	附加题	总分
得分										

一、认真填空。(第7题4分,其余每空1分,共31分)

- $70 - 20 = ()$,我是这样想的:70是()个十,20是()个十,()个十减去()个十,还剩()个十,也就是()。
- (1) $45 + 2 = \square$ (2) $69 - 7 = \square$
 想:先算_____再算_____
 想:先算_____再算_____
- 在 $30 + 40 = 70$ 中,加数是()和(),和是()。
- 在 $90 - 50 = 40$ 中,被减数是(),减数是(),差是()。
- 比30多20的数是();比60少50的数是()。
- 想一想,下面()里最大可以填什么数?
 $10 + 30 > ()$ $20 + () < 25$ $35 + () < 39$
 $46 - () > 40$ $() + 52 < 60$ $54 - 50 > ()$
- 请用31,5,36三个数字写出4道算式。
 $\square + \square = \square$ $\square - \square = \square$ $\square + \square = \square$ $\square - \square = \square$

- 二、细心计算。**(9分)
- | | | | |
|------------------|------------------|------------------|----------------|
| $40 + 50 =$ | $60 - 30 =$ | $30 + 50 =$ | $80 - 50 =$ |
| $37 + 2 =$ | $24 + 5 =$ | $20 + 7 =$ | $45 - 5 =$ |
| $38 + 20 =$ | $65 - 50 =$ | $88 - 80 =$ | $36 + 60 =$ |
| $10 + 30 + 50 =$ | $70 - 20 - 40 =$ | $90 - 60 + 40 =$ | $48 + 1 - 6 =$ |
| $92 + 7 - 5 =$ | $86 + 3 - 9 =$ | | |

三、在○里填上“>”“<”或“=”。(6分)

- $3 + 45 \bigcirc 50$ $30 + 20 \bigcirc 70$ $75 - 20 \bigcirc 49$
 $63 - 3 \bigcirc 61$ $72 + 7 \bigcirc 80$ $60 - 40 \bigcirc 20$

四、填表。(每空1分,共10分)

1.

加数	23	4	11	51	80
加数	20	32	8	20	11
和					

2.

被减数	76	65	90	57	81
减数	20	30	80	3	30
差					

五、试一试,填一填。(每空1分,共10分)

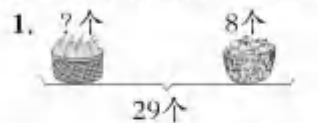
<table border="1" style="display: inline-table; vertical-align: middle;"> <tr><td>24</td></tr> <tr><td>32</td></tr> <tr><td>51</td></tr> <tr><td>42</td></tr> <tr><td>73</td></tr> </table>	24	32	51	42	73	+ 5 =	<table border="1" style="display: inline-table; vertical-align: middle;"> <tr><td> </td></tr> <tr><td> </td></tr> <tr><td> </td></tr> <tr><td> </td></tr> <tr><td> </td></tr> </table>						30 +	=	<table border="1" style="display: inline-table; vertical-align: middle;"> <tr><td>24</td></tr> <tr><td>34</td></tr> <tr><td>22</td></tr> <tr><td>57</td></tr> <tr><td>42</td></tr> </table>	24	34	22	57	42	<table border="1" style="display: inline-table; vertical-align: middle;"> <tr><td> </td></tr> <tr><td> </td></tr> <tr><td> </td></tr> <tr><td> </td></tr> <tr><td> </td></tr> </table>					
24																										
32																										
51																										
42																										
73																										
24																										
34																										
22																										
57																										
42																										

六、猜猜我是谁。(每空1分,共3分)

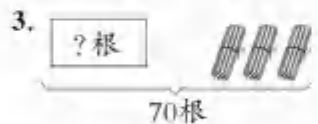
 <p>我比最大的两位数少8。</p> <p>()</p>	 <p>我加8得39。</p> <p>()</p>	 <p>42比我小30。</p> <p>()</p>
---	---	--

kàn tú liè shì jì suàn

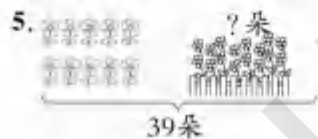
七、看图列式计算。(每小题2分,共10分)



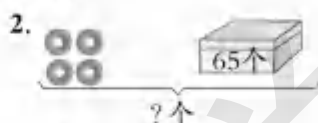
$\square \bigcirc \square = \square$ (个)



$\square \bigcirc \square = \square$ (根)



$\square \bigcirc \square = \square$ (朵)



$\square \bigcirc \square = \square$ (个)



$\square \bigcirc \square = \square$ (个)

jié jué wèn tí

八、解决问题。(21分)

推铅球,看谁的力气大。(9分)



1. (1)大象比小马多推多少米?(3分)

$\square \bigcirc \square = \square$ ()

答:大象比小马多推 米。

(2)小老虎比大象少推多少米?(3分)

$\square \bigcirc \square = \square$ ()

答:小老虎比大象少推 米。

(3)你还能提出什么问题?(3分)

2. 拔萝卜。(6分)



(1)小白兔和小黑兔一共拔了多少个萝卜?(3分)

$\square \bigcirc \square = \square$ ()

答:小白兔和小黑兔一共拔了 个萝卜。

(2)小白兔比小黑兔多拔多少个萝卜?(3分)

$\square \bigcirc \square = \square$ ()

答:小白兔比小黑兔多拔 个萝卜。

3. 小朋友们到玩具店里买玩具。(6分)



(1)一个 比一辆 便宜多少钱?(3分)

$\square \bigcirc \square = \square$ ()

答:一个球比一辆车便宜 。

(2)小青买了一个 ,还剩7元钱。小青带了多少钱?(3分)

$\square \bigcirc \square = \square$ ()

答:小青带了 。

fù jiā tí

附加题。(10分)

在同一个算式的 \square 里填上相同的数。

(1) $86 - \square = 80 + \square$

(2) $7 + \square = 47 - \square$

密
封
线

学
姓
班
数

黄冈小复习

第五单元达标测试卷(二) 北师大版

小学数学 一年级下 测试内容:拔萝卜、收玉米、回收废品

时间: 60分钟 满分: 100分+

题号	一	二	三	四	五	六	七	八	附加题	总分
得分										

rènzhēn tián kòng

一、认真填空。(每空1分,共16分)

- 一个加数是43,另一个加数是24,和是()。
- 被减数是85,减数是33,差是()。
- 一个数减去32是46,这个数是()。
- 最大的两位数与最小的两位数相差()。
- 两个数都是32,它们的和是(),差是()。
- 比56大33的数是(),比56小33的数是()。
- 根据算式填空。

(1) $85 - 34 = 51$
 _____ 比 _____ 多51, _____ 比 _____ 少51。

(2) $25 + 43 = 68$
 _____ 比 _____ 多43, _____ 比 _____ 少43。

jīngxīn xuǎn zé jiāngzhèngquánde xùhào tián zài huàokǔo li

二、精心选择。(将正确答案的序号填在括号里)(每小题2分,共8分)

- 比47少23的数是多少?算式是:()
 A. $47 + 28$ B. $47 - 23$
- 两个数的和是68,一个加数是36,另一个加数是多少?算式是:()
 A. $68 + 36$ B. $68 - 36$
- 红花47朵,黄花42朵,红花比黄花多多少朵?算式是:()
 A. $47 + 42$ B. $47 - 42$
- 减数是45,差是43,被减数是多少?算式是:()
 A. $45 + 43$ B. $45 - 43$

xìxīnjìsuàn

三、细心计算。(32分)

1.看谁算得又对又快。(8分)

$27 - 10 =$ $79 - 5 =$ $68 - 50 =$ $40 + 30 =$
 $56 - 30 =$ $75 + 20 =$ $37 - 6 =$ $47 + 40 =$

2.用竖式计算。(12分)

$43 - 21 =$ $32 + 24 =$ $89 - 75 =$

$42 + 25 =$ $25 + 41 =$ $38 - 17 =$

3.在○里填上“>”“<”或“=”。(6分)

$37 - 22$ ○ 15 $46 - 26$ ○ 20 $48 - 17$ ○ 12
 $64 + 23$ ○ 77 $92 - 41$ ○ 50 $12 + 25$ ○ 39

4.在○里填上“+”或“-”,使等式成立。(6分)

24 ○ $13 = 37$ 98 ○ $30 = 68$ 96 ○ $21 = 75$
 16 ○ $32 = 48$ 87 ○ $22 = 65$ 42 ○ $35 = 77$

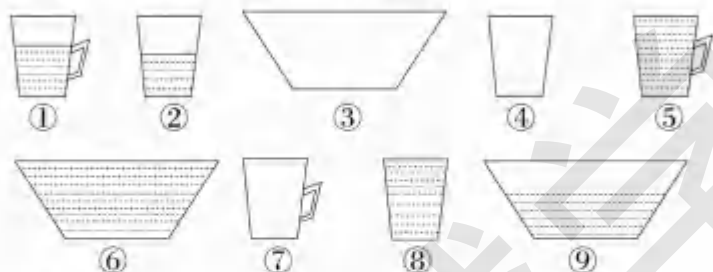
tiánbiǎo

四、填表。(每空1分,共6分)

加数	44		6
加数	15	43	
和		73	56

被减数	64	47	
减数	32		50
差		12	39

fēn yī fēn nǐ yǒu jǐ zhǒng fēn fǎ tián xù hào
五、分一分。(你有几种分法,填序号)(6分)



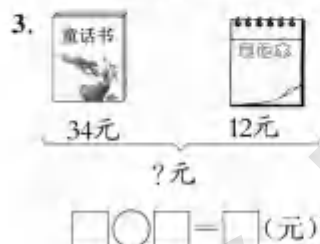
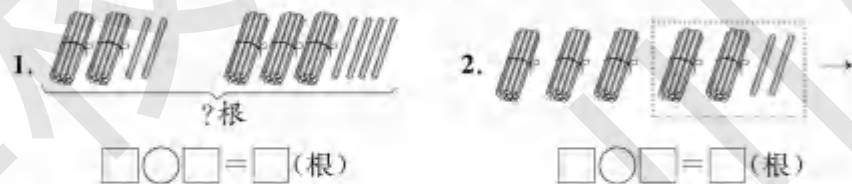
第一种分法: _____
第二种分法: _____

tiánshù yóu xī
六、填数游戏。(6分)

要求:(1)每个空格中只能填0、1、2这三个数字中的一个;
(2)每一横行,每一竖行的数字不能重复。


		0
	0	
0		

kàn tú liè shì jì suàn
七、看图列式计算。(每小题3分,共9分)



jiě jué wèn tí
八、解决问题。(17分)

1. 小明带了100元钱想买下面两种物品,钱够吗?
(在正确答案后面画“√”)(5分)



+ = (元)

_____ 够 不够

2. 小刚折了多少个纸鹤?(4分)



+ = (个)

答:小刚折了_____个纸鹤。

3. 我是环保使者。(8分)



(1) 小丽捡了多少个瓶子?(4分)

+ = (个)

答:小丽捡了_____个瓶子。

(2) 小军捡了多少个瓶子?(4分)

+ = (个)

答:小军捡了_____个瓶子。

tiān jiā tí
附加题。(10分)

一道减法算式的差是26,如果被减数增加12,减数不变,那么差是多少?如果减数增加12,被减数不变,那么差是多少?

姓名
班级
学校

黄冈小复习

第二次月考达标测试卷

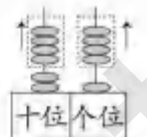
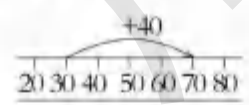
小学数学 一年级下 北师大版

时间：60分钟 测试内容：第五单元 满分：100分+

题号	一	二	三	四	五	六	七	八	选做题	总分
得分										

一、认真填空。 (第6题4分,其余每空1分,共21分)

- 笔算加法时,()要对齐,从()位算起。
- 68减5个十是(),4个十加5个一是()。
- $45+23=()$,想一想: $40+()=60$, $()+()=8$,
 $60+8=68$ 。
- $37+61=()$,37和61都叫(),和是()。
- 被减数是38,减数是11,差是()。
- 看一看,填一填。



$\square \bigcirc \square = \square$

$\square \bigcirc \square = \square$

- 比69少16的数是(),比42多20的数是()。
- ()比26少12,()比55多20。
- 豆豆在计算一个数加32时,把这个数的十位和个位上的数写反了,得到的和是77,正确的和是()。

二、精心选择。 (把正确答案的序号填在括号里)(每小题1分,共5分)

- 24与15的和是()。
A. 93 B. 39 C. 29
- 89与5的差是()。
A. 39 B. 84 C. 34

- $75 - \square = 45$, \square 里应该填()。
A. 3 B. 30 C. 20
- 得数比60大的算式是()。
A. $85-20$ B. $45+14$ C. $69-30$
- 家里有45个苹果,妈妈又买回20个,现在家里有()个苹果。
A. 25 B. 47 C. 65

三、精心计算。 (30分)

- 口算。(8分)
 $50-10=$ $56-20=$ $66-60=$ $71+5=$
 $27+60=$ $84+5=$ $48-20=$ $99-7=$
- 用竖式计算。(12分)
 $46+30=$ $58-16=$ $99-36=$

$57-25=$

$24+75=$

$85-43=$

3. 在□里填上合适的数。 (6分)

$$\begin{array}{r} 3 \square \\ + \square 4 \\ \hline 75 \end{array}$$

$$\begin{array}{r} \square 6 \\ - 1 \square \\ \hline 34 \end{array}$$

$$\begin{array}{r} 3 \square \\ + 3 \square \\ \hline 61 \end{array}$$

4. 改错。 (4分)

$52+3=82$ 改正:

$$\begin{array}{r} 52 \\ + 3 \\ \hline 82 \end{array}$$

$68-62=06$ 改正:

$$\begin{array}{r} 68 \\ - 62 \\ \hline 06 \end{array}$$

cāi cāi wǒ shì duōshǎo
四、猜猜我是多少。(8分)

我在79和81之间。
()

我加上35是75。
()

我比42小一些。
()

lián yì lián
五、连一连。(8分)

36+13

52-12

44+11

78-32

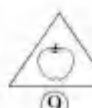
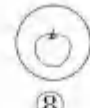
30+25

34+12

70-30

69-20

fēn yì fēn
六、分一分。(每小题4分,共8分)



1. 按水果的种类分,分两类。

2. 按图形的形状分,分两类。

kàn tú liè shì jì suàn
七、看图列式计算。(4分)

1. ?根
57根
 $\square \bigcirc \square = \square$ (根)

2. 50个 16个
?个
 $\square \bigcirc \square = \square$ (个)

jiě jué wèn tí
八、解决问题。(16分)

1. (4分)

美术组有46人。

今天来了42人,今天有多少人请假?

2. 住旅馆。(6分)

(1)一共有多少人?(3分)

我们旅馆有30个房间。
 我们有男生25人,女生20人。

(2)每人住一个房间,还差多少个房间?(3分)

3. 实验小学有42台电脑,希望小学比实验小学多13台电脑。(6分)

(1)希望小学有多少台电脑?(3分)

(2)两所学校共有多少台电脑?(3分)

xuǎn zuò tí
选做题。(10分)

哥哥今年存了39元钱,给妹妹15元后,比妹妹还多3元,妹妹现在有多少元?

密
封
线

学
姓
班
数

黄冈小复习

第六单元达标测试卷

小学数学 一年级下 北师大版

时间：60分钟 测试内容：加与减(三) 满分：100分+

题号	一	二	三	四	五	六	附加题	总分
得分								

一、认真填空。(第10题6分,其余每空1分,共19分)

- 笔算两位数加法时,个位相加满十,向()进1。
- 9个十和6个一组成的数是(),它比100少()。
- 图书馆里有52本漫画书,借走了9本,还剩()本。
- 一个加数是34,另一个加数是27,和是()。
- 被减数是71,减数是34,差是()。
- 比72多9的数是(),比100少34的数是()。
- 最小的三位数是(),最大的一位数是(),它们的差是()。
- 一箱梨有30个,现在还剩17个,吃了()个。
- 花店运来39枝红花,运来的黄花和红花同样多,黄花和红花一共运来()枝。
- 下面哪两个数相加的结果是61? 填一填。

45 30 16 31 25 33 41

+ = 61 + = 61

二、精心选择。(将正确答案的序号填在括号里)(每小题2分,共10分)

- 下面算式中,计算时十位要向个位退一的是()。
A. 58+7 B. 66-8 C. 32-2
- 下面算式的结果与17+58的结果相等的是()。
A. 55+25 B. 36+39 C. 90-5
- 下面算式的结果,与70最接近的是()。
A. 56+18 B. 90-25 C. 80-9

4. 我有29元。 我有35元。

60元 小明 小兰

小明和小兰的钱合起来()买一个布娃娃玩具。
A. 够 B. 不够 C. 不能确定

5. + 45 < 84, 里最大能填()。
A. 40 B. 38 C. 36

三、细心计算。(34分)

1. 看谁算得又对又快。(8分)
- | | | | |
|-------|-------|--------|--------|
| 45+4= | 19+8= | 32-8= | 60-7= |
| 87-6= | 11-6= | 71-22= | 100-5= |

2. 用竖式计算。(16分)
- | | | | |
|-------|-------|-------|--------|
| 27+8= | 91-7= | 5+45= | 64-46= |
|-------|-------|-------|--------|

18+39= 67-59= 45+55= 90-26=

3. 在○里填上“>”“<”或“=”。(6分)

66+15 ○ 15+66 72-18 ○ 72+18 35-17 ○ 35-18
56-17 ○ 66-17 60+12 ○ 15+60 85-27 ○ 75-17

4. 下列计算对吗? 对的画“√”,错的画“×”,并改正。(4分)

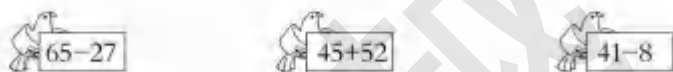
44+19=53 改正:

$$\begin{array}{r} 44 \\ +19 \\ \hline 53 \end{array}$$
 ()

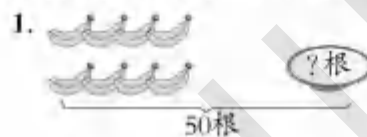
100-31=79 改正:

$$\begin{array}{r} 100 \\ -31 \\ \hline 79 \end{array}$$
 ()

sòng xìn lián yì lián
四、送信。(连一连)(7分)



kàn tú tiē shì jì suàn
五、看图列式计算。(每小题2分,共8分)



$$\square \bigcirc \square = \square \text{ (根)}$$



$$\square \bigcirc \square = \square \text{ (朵)}$$



$$\square \bigcirc \square = \square \text{ (个)}$$



$$\square \bigcirc \square = \square \text{ (根)}$$

jiě jué wèn tí
六、解决问题。(22分)

1. 小兔昨天拔了多少根萝卜?(4分)

我今天拔了46根萝卜。



昨天比今天少拔了18根萝卜。

2. 小明正在玩套圈游戏,他套中了两个,一共得了30分,他套中的可能是哪两个?(5分)



3. 同学们排队去春游。(5分)

我前面有36人,后面有9人,一共有多少人?



4. 买玩具。(8分)



(1) 毛绒小熊比变形金刚便宜18元,毛绒小熊多少元?(4分)

(2) 闹闹有两张50元钱,想买上面的四个玩具,钱够吗?(4分)

tiān jiā tí
附加题。(10分)

姐姐有50张卡片,送给妹妹7张后,两人的卡片就一样多了,妹妹原来有多少张卡片?

黄冈小复习

期末综合达标测试卷

小学数学 一年级下
北师大版

时间：60分钟
测试内容：第一~六单元
满分：100分+

题号	一	二	三	四	五	六	选做题	总分
得分								

一、认真填空。 (每空1分,共29分)

1. 看图写数。



- 由5个十和4个一组成的数是()；66中左边的6在()位上,表示6个()。
- 30比()多1,比()少1。
- 99再加1是(),这个数比50大()。
- 一个数十位上是8,个位上是6,这个数是(),读作(),与它相邻的两个数分别是()和()。

6. 按顺序写数。
- (1) 87, 88, 89, (), (), ()。
- (2) 15, 20, 25, (), (), ()。
- (3) 18, 21, 24, 27, (), (), ()。
- 一个加数是15,另一个加数是7,它们的和是()。
 - 被减数是40,减数是6,它们的差是()。
 - 在65, 71, 86三个数中,和70最接近的数是()。
 - 在()里填上合适的数。
 $50 + () = 58$ $62 + () = 70$ $70 - () = 40$

二、仔细判断。 (对的在括号里画“√”,错的画“×”)(每小题1分,共5分)

- 99 添上 1 后是一百。 ()
- 64 比 70 少一些,88 比 80 多得多。 ()

- 在计算 $86 - 40$ 时,可以先算 $80 - 40 = 40$,再算 $6 + 40 = 46$ 。 ()
- $15 - 9, 11 - 8, 13 - 7, 12 - 6$, ____。按照规律,横线上是 $10 - 4$ 。 ()
- 丁丁有 25 本故事书,借给同学 8 本后,还有 13 本。 ()

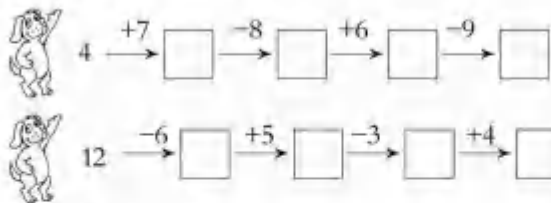
三、精心选择。 (把正确答案的序号填在括号里)(每小题1分,共5分)

- 十个十个地数,44 后面的一个数是()。
A. 43 B. 45 C. 54
- 一个数比 50 大得多,这个数可能是()。
A. 32 B. 53 C. 93
- 一个两位数,十位上的数比个位上的数小 2,这个两位数可能是()。
A. 53 B. 24 C. 97
- 中有()个平行四边形。
A. 3 B. 4 C. 2
- 小明在计算一道加法时,把“+13”算成了“-13”,结果是-19,那么正确的结果应该是()。
A. 75 B. 36 C. 62

四、细心计算。 (28分)

1. 看谁算得又对又快。(8分)
- | | | | |
|------------|-------------|-------------|-------------|
| $18 - 9 =$ | $81 + 3 =$ | $27 - 10 =$ | $50 - 40 =$ |
| $33 + 2 =$ | $27 - 15 =$ | $22 + 9 =$ | $51 + 17 =$ |
2. 用竖式计算。(12分)
- | | | |
|-------------|-------------|-------------|
| $58 + 17 =$ | $36 - 8 =$ | $29 + 57 =$ |
| $80 - 16 =$ | $57 - 39 =$ | $56 - 37 =$ |

3. 看谁跑得快？(8分)




ān yào qiú zuò tí

五、按要求做题。(15分)

1. 数一数，填一填。(9分)

(1) 将数出的结果填入下表。

() 个	() 个	() 个	() 个



- (2) () 的个数最多，() 的个数最少。
 (3) \triangle 比 \circ 多 () 个，比 \square 少 () 个。
 (4) 再添 () 个 \square ， \square 就和 \square 同样多。

2. 三个小朋友分别看到的是哪一幅图？连一连。(3分)



jiě jué wèn tí

六、解决问题。(18分)

1. 小芳班上可能有多少名学生？画“√”。(3分)

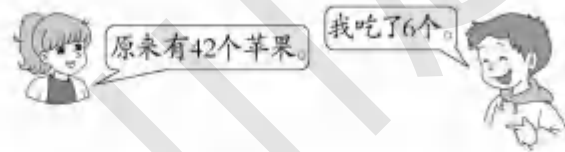
14 名	34 名	42 名
<input type="checkbox"/>	<input type="checkbox"/>	<input type="checkbox"/>




如果我们班每人发1本，那么这些练习本还少一些。



2. 还剩多少个苹果？(3分)

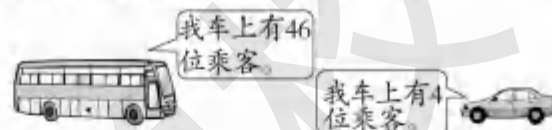


3.



- (1) 青蛙爸爸吃了多少只害虫？(3分)
- (2) 青蛙妈妈吃了多少只害虫？(3分)

4. (1) 大客车上的乘客比小轿车上的乘客多多少人？(3分)



- (2) 这两辆车上一共有多少位乘客？(3分)

xuǎn zuò tí

选做题。(10分)

小丽在计算两个数相减时，把减数个位上的3看成了8，结果得55，正确的结果是多少？

黄冈小复习

名校全真期末测试卷(一)

小学数学 一年级下 北师大版

时间: 60分钟 测试内容: 第一~六单元 满分: 100分

题号	一	二	三	四	五	六	选做题	总分
得分								

一、认真填空。 (第5题2分,其余每空1分,共28分)

- 100里面有()个十,78里面有()个十和()个一。
- 与60相邻的两个数是()和()。
- 69中的“9”表示(),“6”表示();比69大17的数是()。
- 一个两位数的十位是3,个位上的数比十位上的数多1,这个两位数是()。



- 右边的图表示 $\square + \square = \square$ 。
- 在20,45,55,25,40,72,85中,大于40的数有()个,小于40的数有()个,比80大一些的数是(),个位上是2的数是()。
- 按规律填数。

25	27	31		
95	75	65		

- $\star + \square = 15$ $\star + \star = 14$ $\star = ()$ $\square = ()$
- 象妈妈今年24岁,小象今年9岁。小象2岁时,象妈妈()岁。
- 数一数,右图中有()个正方形,()个三角形。
- 比26多17的数是();54减去()是32。



二、仔细判断。 (对的在括号里画“√”,错的画“×”)(每小题1分,共5分)

- 右图算式可列成: $70 - 30 = 40$ 。 ()

- 正方体的每个面都是正方形。 ()
- 85是由8个一和5个十组成的。 ()
- 个位上是5的两位数只有9个。 ()
- 右图是一块七巧板,4号图形和6号图形可以拼成5号图形,也可以拼成7号图形。 ()

三、精心选择。 (将正确答案的序号填在括号里)(每小题1分,共6分)

- 左图可以表示算式()。
A. $63 + 30$ B. $33 + 30$ C. $63 - 30$
- 有28个, 比 多一些, 可能有()个。
A. 38 B. 27 C. 98
- 下面算式()的得数是五十多。
A. $28 + 27$ B. $44 + 5$ C. $58 - 9$
- 如图,红红看到的水壶形状是图()。
 红红



- 中有()个 , 有()个 。
A. 4 B. 3 C. 2

四、细心计算。 (20分)

- 看谁算得又对又快。(8分)
 $45 - 6 =$ $78 - 70 =$ $56 + 8 =$ $76 - 30 =$
 $100 - 50 =$ $92 - 5 =$ $47 + 4 =$ $80 - 6 =$
- 用竖式计算。(12分)
 $37 + 9 =$ $90 - 26 =$ $44 + 8 =$

75+25=

71-35=

92-47=

ǎn yào qiú zuò tí

五、按要求做题。(19分)

1. 数一数。(8分)

- 有()个,
- 有()个,
- △有()个,
- 有()个。

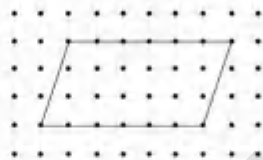


2. 看一看,连一连。(8分)



3. 画一画,分一分。(3分)

把下图分成1个长方形和2个三角形。



jiě jué wèn tí

六、解决问题。(22分)

1. 笑笑有25元钱,买一个书包用去18元,还剩多少元?(4分)



2. 小明今年6岁,爸爸比他大33岁,爸爸今年多少岁?(5分)

3. 把杯子全部装进纸箱里,能装得下吗?(5分)



4. 买玩具。(8分)

			合计
23元	48元		90元

(1)大象和熊猫一共要多少元?(4分)

(2)小鹿要多少元?(4分)

xuǎn zuò tí

选做题。(10分)

明明和小华都要买一本标价为35元的绘画,小明还差8元,小华还差19元,他们两人的钱合起来,够买这本绘画吗?

密封线

学 姓 名 班 级 学 校

黄冈小复习

名校全真期末测试卷(二) 北师大版

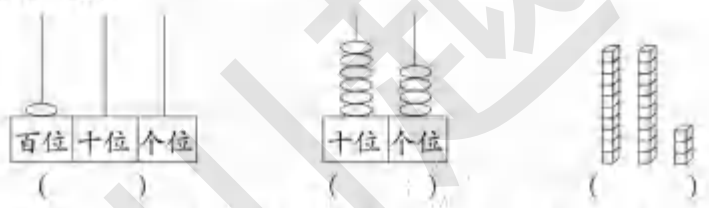
小学数学 一年级下 测试内容：第一~六单元

时间：60分钟 满分：100分

题号	一	二	三	四	五	六	七	选做题	总分
得分									

一、认真填空。 (每空1分,共29分)

1. 填一填。



2. 由6个一和3个十组成的数是()。70里面有()个十,再加上()个十就是100。

3. 最大的两位数是(),最大的一位数是(),它们的差是()。

4. 比56多20的数是(),45比15多()。

5. 在○里填上“>”“<”或“=”。

65 ○ 56 9 ○ 15 20+5 ○ 20-5
100 ○ 99 46 ○ 43 7+9 ○ 16

6. ()里最小能填几?

()+52>57 ()-9>11

7. ◆+26=63, ◆=(); ★+★+3=17, ★=()。

8. 75到83之间有()个数。

9. 如果15-☆=13-●,那么☆()●。(填“>”或“<”)

10. 按照规律接着画:



11. 先想一想百数表,再按照百数表填一填。



二、仔细判断。 (对的在括号里画“√”,错的画“×”)(每小题1分,共5分)

- 十位上的数字是5的两位数只有9个。 ()
- 用4、7、0中的两个数字能组成6个不同的两位数。 ()
- 七巧板中有三角形、正方形和平行四边形三种图形。 ()
- 56和65这两个数中的5表示的大小相同。 ()
- 在长方体上不可能找到正方形。 ()

三、精心选择。 (将正确答案的序号填在括号里)(每小题1分,共5分)

- 个位上是7的两位数一共有()个。
A. 10 B. 9 C. 1
- 用两个△不能拼成的图形是()。
A. 正方形 B. 长方形 C. 平行四边形
- 用▲▲▲▲▲表示32,下面()表示的数比40大,比50小。
A. ▲▲▲▲▲▲▲▲▲▲ B. ▲▲▲▲▲▲▲▲▲▲ C. ▲▲▲▲▲▲▲▲▲▲

4. 再画几个△,就能与○的个数同样多? 解决这个问题正确的算式是()。



- A. 9+4 B. 13-9 C. 13+9

5. 女孩拍到的是()。

- A. B. C.

xī xīn jì suàn

四、细心计算。(20分)

1. 看谁算得又对又快。(8分)

74-6= 13-5= 53-8= 27+8=
58+7= 42+30= 25+3= 63-9=

2. 用竖式计算。(12分)

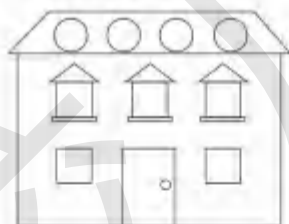
69-27= 31+28= 52-18=

29+57= 42-25= 24+16=

àn yào qiú zuò tí

五、按要求做题。(14分)

1. 认一认,填一填,涂一涂。(8分)



- (1) 三角形有()个,涂红色。
(2) 正方形有()个,涂黄色。
(3) 长方形有()个,涂绿色。
(4) 圆有()个,涂蓝色。

2. 按要求各画一条线。(6分)



分成两个三角形



分成两个正方形



分成两个长方形

kān tú liè shì jì suàn

六、看图列式计算。(每小题3分,共6分)

1.



17个

$\square \bigcirc \square = \square$ (个)

2.



36个

$\square \bigcirc \square = \square$ (个)

jiě jué wèn tí

七、解决问题。(21分)

1. (4分)

原来有27幢房子。



又盖了23幢。



现在有多少幢?



$\square \bigcirc \square = \square$ (幢)

答:现在有()幢。

2. 一(2)班的图书,借出一半后,还剩23本,一(2)班原有图书多少本?
(4分)

3. 我会购物。(13分)



书包65元



水彩笔21元



铅笔盒12元

(1) 小芳买一盒水彩笔和一个铅笔盒,一共需要多少元?(4分)

(2) 小丽拿出50元钱,要买一盒水彩笔,应找回多少元?(4分)

(3) 芳芳带了100元钱,三种物品各买一件,钱够吗?(5分)

xuǎn zuò tí

选做题。(10分)

括号里最大可以填几。

$32+7 > 32+(\quad)$

$48-6 > (\quad)$

$80+8 > 84+(\quad)$

$13+6 > (\quad)$

黄冈小复习

名校全真期末测试卷(三) 北师大版

小学数学 一年级下 测试内容：第一~六单元 满分：100分+

时间：60分钟

题号	一	二	三	四	五	六	七	选做题	总分
得分									

rènzhēn tiánkòng

一、认真填空。(每空1分,共34分)

1. 
2. 78 里面有()个一和()个十。
3. 56 十位上的数字是(),表示()个();个位上的数字是(),表示()个()。
4. 80 比 47 多(),比 32 多 39 的数是()。
54 比 69 少(),比 17 多 28 的数是()。
5. 最小的两位数比最大的两位数小()。
6. 妈妈的岁数比 35 大,比 38 小,她可能是()岁或()岁。
7. 在○里填上“>”“<”或“=”。
- $99+1$ ○ 100 $30+7$ ○ $43-3$
 $50+40$ ○ $32+69$ $41-9$ ○ $29+7$
8. 一个两位数,比 70 大,比 80 小,且这个两位数十位上的数字比个位上的数字多 2,这个数是()。
9. 下面的图形分别是 从哪个面看到的?(填“左面”“上面”“前面”)



10. 按规律填数。
(1) 30, 28, 26, (), (), 20。
 ... 57 ...

(2) (), 25, 35, (), ()

xi xì pànduàn duì de zài kuò hào li huà "√", cuò de huà "×"

二、仔细判断。(对的在括号里画“√”,错的画“×”)(每小题1分,共5分)

- 和 70 相邻的两个整十数是 50 和 80。 ()
- 正方体的每个面都是大小不一样的正方形。 ()
- 观察球时,站在不同的位置看到的形状都一样。 ()
- 56 比一个数多 17,求这个数列式是: $56+17$ 。 ()
- 85 后面连续的五个数是: 84, 83, 82, 81, 80。 ()

jīngxīn xuǎn zé bǎ zhèng què dá'àn de xù hào tián zài kuò hào li

三、精心选择。(把正确答案的序号填在括号里)(每小题1分,共5分)

1. 下面的图形中,用()能在纸上画出○。



2. 至少用()个相同的□,才能拼成一个较大的正方形。
A. 2 B. 4 C. 8
3. 被减数是 52,减数和差相同,这个数是()。
A. 52 B. 25 C. 26
4. ()和()能拼成一个长方形。



5. 50 元可以买下面()两种物品。



- (1) 37元 (2) 15元 (3) 28元
- A. (1)和(2) B. (2)和(3) C. (1)和(3)

xī xīn jì suàn

四、细心计算。(20分)

1. 看谁算得又快又好。(8分)
- $70-60=$ $12-8=$ $55+4=$ $37+12=$
 $50+30=$ $4+53=$ $45+22=$ $17-8=$
2. 用竖式计算。(12分)
- $81+19=$ $80-48=$ $98-89=$

100 - 34 =

9 + 46 =

36 + 13 =

□○□=□(只)

答：小啄木鸟吃了()只害虫。

2. 拔萝卜。

我拔了26个萝卜。

我拔的萝卜比你拔的多得多。



小灰兔可能拔了多少个萝卜？(画“○”)(2分)

23个	29个	62个

3. 小朋友帮王奶奶家收西瓜，一共摘了95个西瓜。第一小组运回了36个，第二小组运回了39个。(6分)

(1)一共运回了多少个西瓜？(3分)

(2)还剩多少个西瓜没运？(3分)

4. 买文具。(填序号)(6分)



①25元

②17元

③75元

④28元

(1)丽丽买了两样文具，花了42元，她买的是()和()。(2分)

(2)明明买了两样文具，正好100元，他买的是()和()。(2分)

(3)天天带了100元，买了两样文具后剩47元，他买的是()和()。(2分)

xiǎnzǒu lǐ

选做题。(10分)

一班有35名同学，二班有32名同学，新学期开学，转来了5名新同学，怎样分才能使两个班的人数相等？

五、按要求做题。(15分)

1. 数一数。(4分)



长方形有()个，正方形有()个，圆有()个，三角形有()个。

2. 在下面的方格中，每一横行、每一竖行都有1~4这四个数，并且每个数在每一横行、每一竖行都只出现一次，填出空格里缺少的数。(11分)

		2	
2			4
	3		
		1	

六、看图列式计算。(每小题2分，共4分)



?根

□○□=□(根)



共有61个

□○□=□(个)

七、解决问题。(17分)

1. 小啄木鸟吃了多少只害虫？(3分)



我比你少吃19只。

我吃了63只害虫。

小啄木鸟

大啄木鸟

密
封
线

参考答案

第一单元达标测试卷

- 一、1. 6 6 2. 7 7 3. 8 15 4. 6 5, 4
6. > > > > > >
7. + + - - - - -
8. 8 14 4 8 11 3
二、1. × 9÷4=13 2. × 16-8=8
3. √ 4. × 11-4=7



- 三、
四、1. 9 9 6 8 0 9 5 12 6 6
2. 3 4 5 9 8 7 9 9 9
五、11-2 13-4 15-6 16-7 11-4
12-5 13-6 14-7 (答案不唯一)
六、1. ○○○○○○ 12-5=7
2. ☆☆☆☆☆☆☆☆☆☆☆ 9+3=14
七、1. 13-8=5 2. 15-7=8 3. 16-7=9
4. 12-6=6
八、1. 18-9=9 2. 13-6=7(元) 7
3. (1) 14-7=7(个) 7 (2) 14-5=9(个) 9

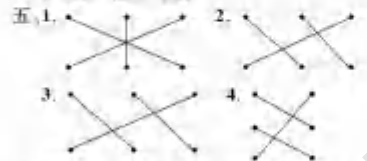
(3) 买的火龙果和桃一共有多少个?
7+5=12(个)
答:买的火龙果和桃一共有12个。(答案不唯一)

附加题: 7+8=15 8+7=15 15-7=8 15-8=7

第二单元达标测试卷

- 一、1. A C B 2. 小月 小阳 3. 2 1 4. 6 2 3
二、小鸟 小鸭 青蛙
三、1. B 2. B 3. C 4. C

- 四、1. 2.
3. 4.
5.



六、上:小兰 下:小丁 左:小华 右:小亮
附加题: 1. 9

解析: 这题是数小正方体, 认真观察立方体, 按照从下往上, 一层一层地数出小正方体, 如第一个图, 第一层

有 4 个小正方体, 第二层有 1 个小正方体, 加起来就是 4 个; 第二个图第一层和第二层都有 3 个小正方体, 第三层有 2 个, 第四层有 1 个, 总共有 $3+(3+2+1)=9$ (个) 小正方体, 注意挡住的小正方体也要数出来。

第一次月考达标测试卷

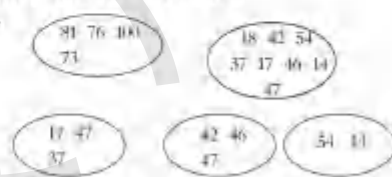
- 一、1. 4 1 3 10-7=3 1+3=4
2. 3 4 10-8=2 5+4=9
3. 8 3 11 15
4. 9 11 13 15 16 12 10 8
5. 多 少 11-6=5
二、1. B 2. C 3. B 4. A
三、1. 16 7 7 9 7 3 11 16 9 6
2. > > > < < <
3. 16 3 6 7 8 9
4. - - - + - - - + +

- 四、1. 前面 右面 上面 2. 前面 上面 右面
五、1. 16-8=8 2. 14-6=8
六、1. 12-3 12-9=9 13-2 13-2=11
2. 13-6=7 7
3. (答案不唯一)

(1) 小红和小明一共有多少张画片?
6+9=15(张)
答: 小红和小明一共有15张画片。
(2) 小亮比小红多多少张画片?
12-6=6(张)
答: 小亮比小红多6张画片。
选做题: 16-4=12 12-3=9

第三单元达标测试卷

- 一、1. 34 100 62 2. 35 4 5 3. 39
4. 37 6 5 5. 46 66 6. 54 56 7. 79 80
8. 四十六 9. (1) 100 65 (2) 65 87
10. > < < < < <
11. (1) 30 32 34 (2) 70 65 60
(3) 84 87 89 (4) 44 55 66
二、1. × 2. × 3. √ 4. × 5. ×
三、1. A 2. B 3. C 4. B 5. C
四、



- 五、64 > 52 > 50 > 47 > 39 > 32 > 25
24 < 36 < 38 < 45 < 78 < 90 < 109

- 六、1. 57 69 86 100
2. 从上往下: 56 67 76 77 78
81 82 83 93 94
98 19 59 70

七、1. 22本 2. 26本 3. 50元 4. 17元
4. 91, 82, 73, 64

附加题: 单数

第四单元达标测试卷

- 一、1. 长方 正方 三角 圆 2. 1 3
3. 长方形 三角形 正方形 4. 长方
5. (1) 3 5 9 (2) 3 3
6. (1)



- 二、1. A 2. B 3. B 4. B 5. C 6. B

- 三、1. 6 6 4 3 2. 5 3 5



- 五、1. 正方 (1)(2)(4)(7) (5) 2. 3 1 5 1
3. (1) (5) 1

六、略

七、



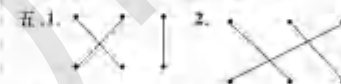
(第二幅图的分法唯一, 其他图的分法不唯一)

附加题: 5 4

期中综合达标测试卷

- 一、1. 7 3 73 七十三 4 2 32 三十二
2. 35 100 3. 一 二 百
4. 50 51 5. 7 6. 4 相等 1 相等 3
7. 48, 15, 49 25, 64, 63 48, 45, 49
8. 94 34 9. 98 89 100
10. (1) 85 80 65 (2) 113 23 55 63
(3) △ □ □
二、1. × 2. √ 3. √ 4. √ 5. ×
三、1. A 2. C 3. C 4. A 5. B 6. B

- 四、1. 8 9 15 8 12 8 9 1
2. 7 11 4 9 6 17
3. 9 15 8 11 9 12 15 6 12 7 11 8
4. > - > < -



- 六、1. 5 3 4 1 20
七、1. 11-4=7(道) 答: 还要做7道。
11-6=5(道) 答: 我做了5道。
2. 16-9=7(颗) 答: 晓明两天一共吃了7颗糖。
3. 32个√
选做题: 1. 45 2. 64 67

名校全真期中测试卷

- 一、1. 50 16 34 100 2. (1) 4 6 (2) 68 70
3. 25 27 28 70 60 40
4. < < 17(此空答案不唯一)
> > 16(此空答案不唯一)
5. 2 5 9 6 8 8 6. (△) 1) (○)
7. 6 1 3 5
8. 1+9=14 13-4=9 9+4=13 14-9=5
二、1. B 2. C 3. B 4. C 5. B
三、1. 7, 6, 7, 9, 13, 45, 1, 5, 9, 11
2. 12-9 < 11 7 < 13 9 < 15 9 < 14 7 < 16 7
四、1.
2.

五、略

六、1. 13-7=6 2. 11-6=5

七、1. 60元√ 2. 13 9-4 4
3. 11-8=3 6 4. 16-9=7 7
选做题: 13 5 7

第五单元达标测试卷(一)

- 一、1. 50 7 2 7 2 5 50
2. 47 5 12=7 40 7=17
62 9-7=2 60+2=62
3. 80 40 70 4. 90 50 40 5. 50 10
6. 39 1 8 5 7 8
7. 31+5=36 3+31=34 36-31=5
36-5=31
二、(横排答案) 195 30 80 30 39 29 27 40
58 13 8 96 90 10 70 43 94 60
三、< < < < < < < <
四、(1) 43 38 49 71 91
(2) 56 35 19 54 51

五. 29 37 56 47 74 54 64 52 87 73
六. 91 31 72
七. 1. 20-8=12 2. 4+65=69 3. 70-30=40
4. 10+30=50 5. 30-10=20

八. 1. (1) 100-10=80(条) 80
(2) 90-40=50(条) 50
(3) 小老虎比小马多推多少米?
40-10=30(米)
答: 小老虎比小马多推30米。
2. (1) 12+30=72(个) 72
(2) 42-30=12(个) 12
3. (1) 45-6=40(元) 40元
(2) 22+7=29(元) 29元

附加题: 1. 18 3 (2) 20 20

第五单元达标测试卷(二)

一. 1. 67 2. 52 3. 78 4. 84 5. 64 6. 89 23
7. (1) 85 84 84 85 (2) 88 25 25 68

二. 1. B 2. B 3. B 4. A
三. 1. 17 74 18 70 26 95 31 87
2. 22 56 14 67 66 24
3. = = > > > <
4. + - - + - +

四. 59 30 50 52 33 89

五. 第一种分法: (1) (2) (3) (4) (5) (6) (7) (8) (9) (10) (11) (12)
第二种分法: (1) (2) (3) (4) (5) (6) (7) (8) (9) (10) (11) (12)

六.

3	1	0
3	0	2
6	2	1

七. 1. 22+31=53 2. 59-32=27 3. 44+12=56
八. 1. 45+54=99 100-58=42 够
2. 65-15=50 50
3. 35-18=22 22 35+21=56 59

附加题: 26+12=38 26-12=14

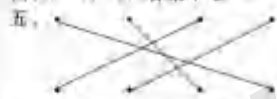
解析: 在减法算式中, 如果减数不变, 被减数增加多少, 差也增加多少; 如果被减数不变, 减数增加多少, 差就减少多少。

第二次月考达标测试卷

一. 1. 相同数位 个 2. 18 45 3. 68 20 5 3
4. 98 加数 98 5. 27
6. 30+10=70 65+14=79
7. 58 82 8. 41 75 9. 86
二. 1. B 2. B 3. B 4. A 5. C
三. 1. 10 36 6 76 87 89 28 93
2. 76 42 63 32 99 42
3. 1 4 1 2 0 1

$$\begin{array}{r} 4 \quad 5 \quad 2 \qquad \qquad 6 \quad 8 \\ + \quad 3 \qquad \qquad \quad - \quad 6 \quad 2 \\ \hline 5 \quad 5 \qquad \qquad \quad 0 \end{array}$$

四. 80-40=40(答案不唯一)



五.

六. 1. (1) (2) (3) (4) (5) (6) (7) (8) (9) (10) (11) (12)

七. 1. 57-23=34 2. 50+16=66

八. 1. 45-12=33(人) 答: 今天有33人请假。
2. (1) 25+20=45(人) 答: 一共有45人。
(2) 45-30=15(个) 答: 还差15个房间。
3. (1) 42+13=55(台) 答: 希望小学有55台电脑。
(2) 95+12=107(台)
答: 两所学校共有107台电脑。

选做题: 39-15=24(元) 24-3=21(元)
答: 妹妹现在有21元。

第六单元达标测试卷

一. 1. 十位 2. 94 3. 48 4. 61 5. 37 6. 81 66
7. 100 8. 91 8. 13 9. 78
10. 45+18=63 30+31=61
二. 1. B 2. B 3. C 4. A 5. B
三. 1. 19 27 24 53 81 6 19 95
2. 35 84 50 18 87 8 100 64
3. < < < < < <

$$\begin{array}{r} 4 \times 44+9=61 \\ \quad \quad 4 \quad 4 \\ + \quad 1 \quad 9 \\ \hline \quad \quad 6 \quad 3 \end{array} \quad \begin{array}{r} 5 \times 103-31=79 \\ \quad \quad 1 \quad 0 \quad 3 \\ - \quad \quad 3 \quad 1 \\ \hline \quad \quad 0 \quad 9 \end{array}$$



四.

五. 1. 50-8=42 2. 35+27=62
3. 37+15=52 4. 30-5=25
六. 1. 18-18=0(根)

答: 小兔昨天拔了28根萝卜。
2. 25+5=30(分) 小虎和小鸟
20+4=24(分) 鸡和大象
24+6=30(分) 熊和蝴蝶
答: 他套中的可能是小鱼和小鸟; 或鸡和大象; 或熊和蝴蝶。

3. 36+9+1=46(人) 答: 一共有46人。
4. (1) 43-18=25(元) 答: 毛绒小熊15元。
(2) 39+8=47(元) 33+16=49(元) 47<49
答: 钱够。

附加题: 50-7-7=36(张)
答: 妹妹原来有36张卡片。

期末综合达标测试卷

一. 1. 28 85 66 2. 54 十 十 3. 29 31
4. 100 50 5. 85 八十六 85 87

6. (1) 90 91 92 (2) 30 35 40
(3) 30 34 36

7. 23 8. 34 9. 71 10. 8 8 30

二. 1. √ 2. × 3. √ 4. × 5. ×

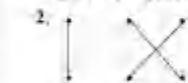
三. 1. C 2. C 3. B 4. A 5. A

四. 1. 9 84 17 40 35 12 31 68

2. 75 44 86 64 48 19

3. 11 3 9 0 6 11 8 12

五. 1. (1) 8 (2) 15 A (3) 长方形 正方形
(8) 7 (4) 12



六. 1. 42名√
2. 42-6=36(个) 答: 还剩36个苹果。

3. (1) 10+15=25(只)
答: 青蛙爸爸吃了10只害虫。

(2) 10+18=28(只)
答: 青蛙妈妈吃了18只害虫。

4. (1) 46-4=42(人)
答: 大客车上的乘客比小轿车上的乘客多42人。

(2) 45+1=50(位)
答: 这两辆车上一共有50位乘客。

选做题: 60

名校全真期末测试卷(一)

一. 1. 10 7 8 2. 50 61 3. 0个 0个十 86
4. 34 5. 36+23=59 6. 4 2 85 72
7. 29 38 36 85 55 85
8. 7 8 9. 17 10. 4 (2) 11. 43 22

二. 1. √ 2. √ 3. × 4. √ 5. √

三. 1. C 2. A 3. A 4. B 5. B C

四. 1. 39 8 64 46 50 87 51 74
2. 46 64 52 100 36 45

五. 1. 7 3 8 4

2.



六. 1. 25-18=7(元)
答: 还剩7元。

2. 6+25=31(岁)
答: 爸爸今年31岁。

3. 18+15=33(个) 33<40
答: 能装得下。

4. (1) 28+48=76(元) 答: 一共要76元。
(2) 90-71=19(元) 答: 小鹿要19元。

选做题: 35-8=27(元) 35-19=16(元)
27+16=43(元) 43>35 答: 够买这本图画

名校全真期末测试卷(二)

一. 1. 100 64 28 2. 35 7 3 3. 99 0 90

4. 76 30 5. < > > > >
6. 1 21 7. 47 7 8. 7 9. <
10. △ □ ← ↓ 11. 从上到下: 74 68

二. 1. > 2. × 3. √ 4. × 5. >

三. 1. B 2. B 3. B 4. B 5. C

四. 1. 84 8 45 35 65 72 28 34
2. 12 59 34 26 17 40

五. 1. 3 1 3 5
2.



六. 1. 17-8=9 2. 36-9=27

七. 1. 29+23=52 50
2. 23+23=46(本)
答: 一(2)班原有图书46本。

3. (1) 21+12=33(元) 答: 一共需要33元。
(2) 70-31=39(元) 答: 应找回39元。
(3) 65+21+12=98(元) 98<100
答: 钱够。

选做题: 3 41 3 18

名校全真期末测试卷(三)

一. 1. 40 四十 66 六十六 100 一百
2. 8 7 3. 5 5 十 6 6 一
4. 38 71 15 45 5. 89 6. 36 37
7. < < < < < 8. 75 9. 左面 上面 前面

10. (1) 24 22 (2) 16 48 55

二. 1. > 2. × 3. √ 4. × 5. ×

三. 1. A 2. B 3. C 4. A 5. B

四. 1. 10 4 59 10 80 57 67 14
2. 100 32 9 10 55 48

五. 1. 1 2 1 8
2.

3	+	2	1
2	-	1	3
1	+	4	2
4	-	2	1

六. 1. 15+28=43 2. 64-6=58

七. 1. 88 19-11 33
2. 62个□
3. (1) 36+39=75(个)
答: 一共运回了75个西瓜。
(2) 95-75=20(个)
答: 还剩20个西瓜没运。

4. (1) (2) (3) (4) (5) (6) (7) (8) (9) (10) (11) (12)

选做题: 原来二班比一班少3名同学, 先从转来的5名新同学中选出3名分给二班, 使每个班都有35名同学, 剩下2名新同学, 每个班各分1名新同学, 因此一班分1名新同学, 二班分4名新同学, 这样才能使两个班的人数相等。